

Plano de aula de **10/08/2020 à 14/08/2020**

E.M.E.B. Olívio Faleiros


4º anos A, B e D

Professoras: Adriana, Jaqueline e Mariângela

Nome: _____



E NCONTRE OS CINCO ERROS NA FORMA DE UTILIZAÇÃO DA ÁGUA!



A) Escreva os cinco erros na forma de utilização da água:

1- _____

2- _____

3- _____

4- _____

5- _____


1- Resolva as situações problemas:

Problemas

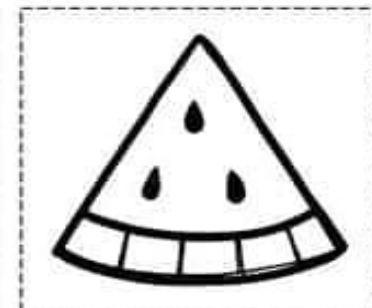
Em um saco de doces há 15 doces, quantos doces há em 4 sacos?



Em um cacho de uva há 30 uvas, quantas uvas há em 5 cachos?



Em uma feira, vende-se 8 melancias por dia. Quantas melancias serão vendidas em uma semana ?



@professoranayarah

1- Leia as informações sobre a Onça Pintada:

Onça pintada

Nome científico: Panthera onça

Classe: Mammalia

Ordem: Carnívora

Família: Felidae

Distribuição: América do norte (Arizona, Texas e Novo México) e América do Sul.

Habitat: Florestas e Savanas

Hábitos: Noturnos

Nome comum: Onça pintada

Características: Aparência esbelta, com pernas relativamente curtas e cabeça arredondada. Sua pelagem apresenta uma tonalidade amarela com manchas pretas em forma de roseta, com exceção da região ventral, que é branca. É o maior felino do continente americano e pode chegar até 135 kg. Alimenta-se de aves e mamíferos. A reprodução ocorre durante o ano inteiro, com gestação de 93 a 105 dias, nascendo dois filhotes no máximo. Vivem em média 20 anos.

Fonte: <http://portaldoprofessor.mec.gov.br/fichaTecnicaAula.html?aula=57631>

2- Agora complete a ficha do animal:

ANIMAL	
NOME CIENTÍFICO	
TAMANHO	
CARACTERÍSTICAS FÍSICAS	
HÁBITOS	
ONDE VIVE	
ALIMENTAÇÃO	
ESPECTATIVA DE VIDA	

MATEMÁTICA

1- Observe o relógio em forma de flor.

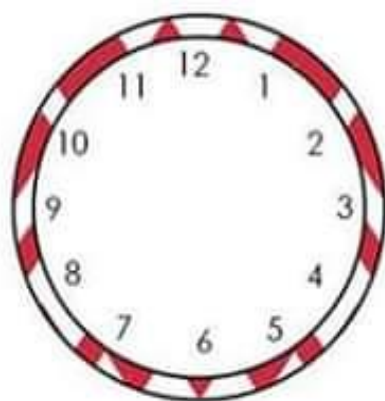
2- Desenhe os ponteiros de acordo com suas atividades diárias:



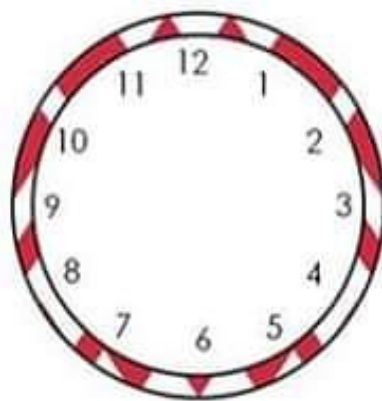
ROTINA NO RELÓGIO

Desenhe os ponteiros do relógio abaixo marcando o horário em que você realiza cada uma dessas atividades:

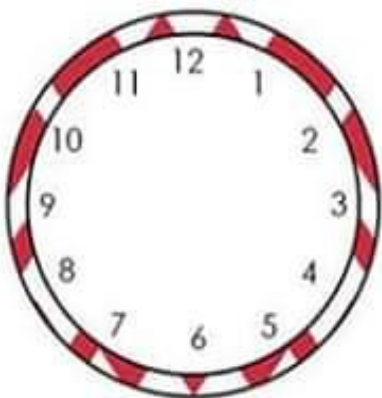
Acordar:



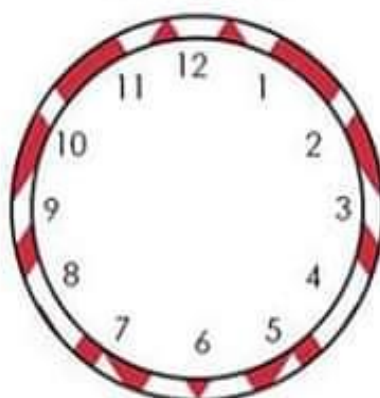
tarefas:



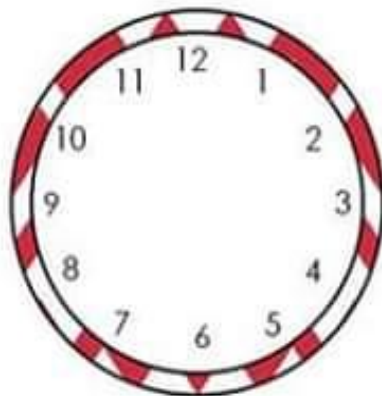
Almoço:



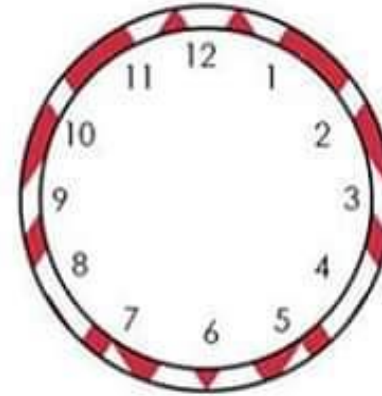
Banho:



Jantar:



Dormir:



12/08/2020

Português

Rima é a repetição de uma sequência de sons a partir da vogal da última sílaba tônica do verso.

Atividade

1- Leia atentamente as palavras e escreva ao lado as palavras que rimem com elas.

Veja o modelo:

a) Cientista- dentista

b) Cachoeira- _____

c) Filho- _____

d) Pastor- _____

e) Sabão- _____

f) Macaco- _____

g) Tomate- _____

h) Criança- _____

i) Armário- _____

j) Ventilador- _____

k) Sapeca- _____

l) Diversão- _____

m) Celular- _____

n) Trem- _____

o) Barco- _____

p) Baú- _____

Matemática

1- Apostila Aprova Brasil de Matemática

Página: 50

Assunto: Divisão

13/08/2020

Português

A pipa é um brinquedo que faz parte do nosso folclore. Leia o texto com atenção e responda as perguntas.

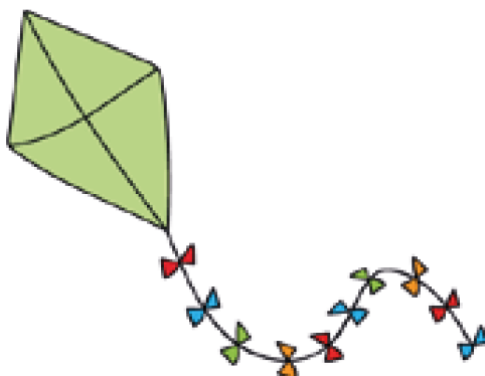
PIPA

A PIPA NÃO ERA CONSIDERADA BRINQUEDO QUANDO SURTIU, NA CHINA, HÁ 1.000 ANOS ANTES DE CRISTO. ELA ERA UTILIZADA COMO DISPOSITIVO DE SINALIZAÇÃO MILITAR. SUA COR E OS MOVIMENTOS NO AR TINHAM COMO OBJETIVO ENVIAR MENSAGENS EM CÓDIGOS ENTRE OS CAMPOS.

NO BRASIL, HÁ NOTÍCIAS QUE TAMBÉM A UTILIZARAM COMO SINALIZADOR, MAS LOGO PASSOU A SER UM DOS BRINQUEDOS PREDILETOS DAS CRIANÇAS, ADOLESCENTES E ATÉ ADULTOS.

A PIPA PODE SER CONFECCIONADA DE DIFERENTES MATERIAIS, FORMAS E TAMANHOS. SE AS CRIANÇAS CONSEGUEM EMPINAR, JÁ É O SUFICIENTE PARA BRINCAR. ELA É CONHECIDA COM OUTROS NOMES EM DIFERENTES REGIÕES. NO RIO GRANDE DO SUL, POR EXEMPLO, É CHAMADA DE PANDORGA. EM SALVADOR, ARRAIA E, EM TOCANTINS, PAPAGAIO OU PUCHETA, DEPENDENDO, É CLARO, DO TIPO DE PIPA!

TEXTO ADAPTADO DO LIVRO: A HISTÓRIA DO BRINQUEDO, DE CRISTIANA VON.



1- Para qual função a pipa foi criada?

R: _____

2- Quais são os nomes dados à pipa em diferentes regiões do Brasil?

R: _____

Matemática

1- Apostila Aprova Brasil de Matemática

Página: 51

Assunto: Divisão

14/08/2020

Português

1- Adivinhas também fazem parte do folclore brasileiro. Encontre as respostas:

O QUE É, O QUE É

A) DE NOITE APARECEM SEM SEREM CHAMADAS, DE DIA DESAPARECEM SEM QUE NINGUÉMAS TENHA ROUBADO?

() SOL () ESTRELAS () BOLAS

B) TEM NA CASA E ESTÁ NO PALETÓ?

() FORRO () PANO () BOTÃO

C) VAI ATÉ A PORTA DA CASA, MAS NÃO ENTRA?

() CALÇADA () CIMENTO () PEDRA

D) TEMOS EM CASA E NÃO QUEREMOS TER NA CASA?

() FOGO () GÁS () TINTA

Matemática

1- Apostila Aprova Brasil de Matemática

Páginas: 52 e 53

Assunto: Figuras geométricas planas
